

Φυλλάδιο 5- Γεωμετρία

Επαναληπτικό φυλλάδιο

1. Να σχηματίσεις τις πιο κάτω γωνίες.

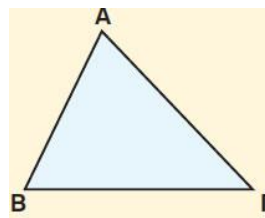
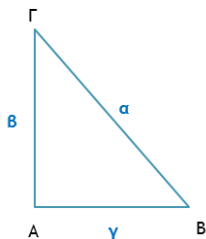
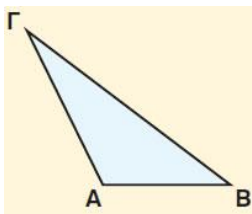
οξεία γωνία

ορθή γωνία

αμβλεία γωνία

--	--	--

2. Να αναγνωρίσεις τα πιο κάτω τρίγωνα (ορθογώνιο, οξυγώνιο, αμβλυγώνιο), γράφοντας κάτω από το καθένα το είδος του:



.....

3. Να σχηματίσεις ένα σχήμα που να έχει 2 ζευγάρια παράλληλων γραμμών και ένα σχήμα που να έχει 1 ζευγάρι παράλληλων γραμμών.

--	--